

NOME: COGNOME:

I miei compiti per le vacanze di Natale 4

DISCIPLINE



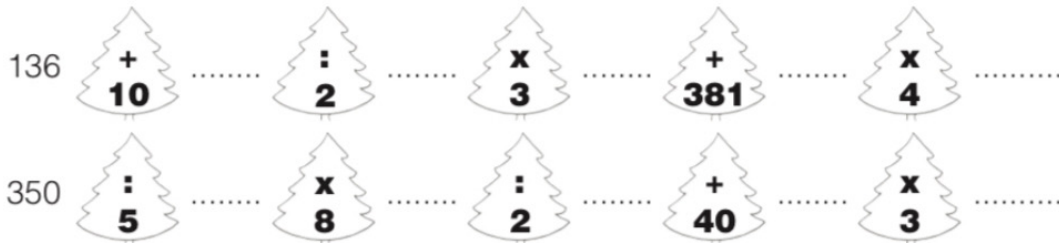
Coloro solo le stelle che contengono numeri dispari.



Coloro solo le palline che contengono numeri pari.



Eseguo i percorsi e scrivo i risultati.



Coloro in ogni pacchetto il valore più alto.





Ordino i numeri dal più piccolo al più grande.

- 1356 • 6513 • 5316 • 3561 • 1653 • 6135 • 3615 • 3156 •
5631 • 6531 • 3165 • 1635



Scompongo i numeri come nell'esempio.

- | | |
|--------------------|--------------|
| 456 = 4 h 5 da 6 u | 1097 = |
| 645 = | 2008 = |
| 987 = | 3037 = |
| 1326 = | 4500 = |
| 1904 = | 6001 = |



Scrivo i numeri corrispondenti.

- | | |
|---------------------------|------------------------|
| 6 da 8 u = | 1 uk 15 h = |
| 8 da = | 26 h 8 da 10 u = |
| 3 h 18 da 2 u = | 150 da 3 u = |
| 2 uk 5 h 6 da 4 u = | 6 uk 15 da = |
| 3 uk 2 h 12 da = | 8 h 64 u = |

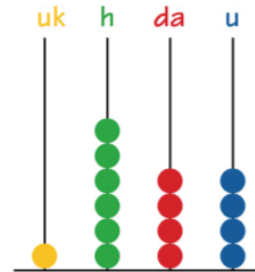
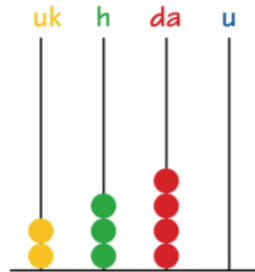
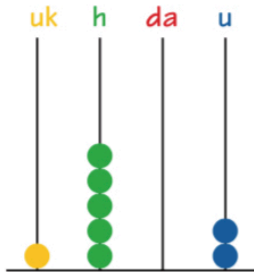


Rappresento sull'abaco i numeri indicati.

<table border="0"> <tr><td>uk</td><td>h</td><td>da</td><td>u</td></tr> <tr><td> </td><td> </td><td> </td><td> </td></tr> <tr><td>1</td><td>2</td><td>5</td><td>6</td></tr> </table>	uk	h	da	u					1	2	5	6	<table border="0"> <tr><td>uk</td><td>h</td><td>da</td><td>u</td></tr> <tr><td> </td><td> </td><td> </td><td> </td></tr> <tr><td>2</td><td>4</td><td>7</td><td>0</td></tr> </table>	uk	h	da	u					2	4	7	0	<table border="0"> <tr><td>uk</td><td>h</td><td>da</td><td>u</td></tr> <tr><td> </td><td> </td><td> </td><td> </td></tr> <tr><td>3</td><td>0</td><td>0</td><td>8</td></tr> </table>	uk	h	da	u					3	0	0	8
uk	h	da	u																																			
1	2	5	6																																			
uk	h	da	u																																			
2	4	7	0																																			
uk	h	da	u																																			
3	0	0	8																																			
<table border="0"> <tr><td>uk</td><td>h</td><td>da</td><td>u</td></tr> <tr><td> </td><td> </td><td> </td><td> </td></tr> <tr><td>1</td><td>0</td><td>2</td><td>6</td></tr> </table>	uk	h	da	u					1	0	2	6																										
uk	h	da	u																																			
1	0	2	6																																			



Scrivo i numeri rappresentati su ogni abaco.



Metto in relazione con una freccia i valori uguali.

50 da

3400 u

5 h

1 h 5 da

3 uk 4 h

76 h

1 uk 340 u

134 da

150 u

7 uk 60 da



Scrivo in lettere i numeri seguenti.

1245 =

1096 =

2800 =

2005 =

1099 =

1784 =



Indico in ogni numero il valore della cifra 3.

13 348 1730 3849 2327

↓ ↓ ↓ ↓ ↓

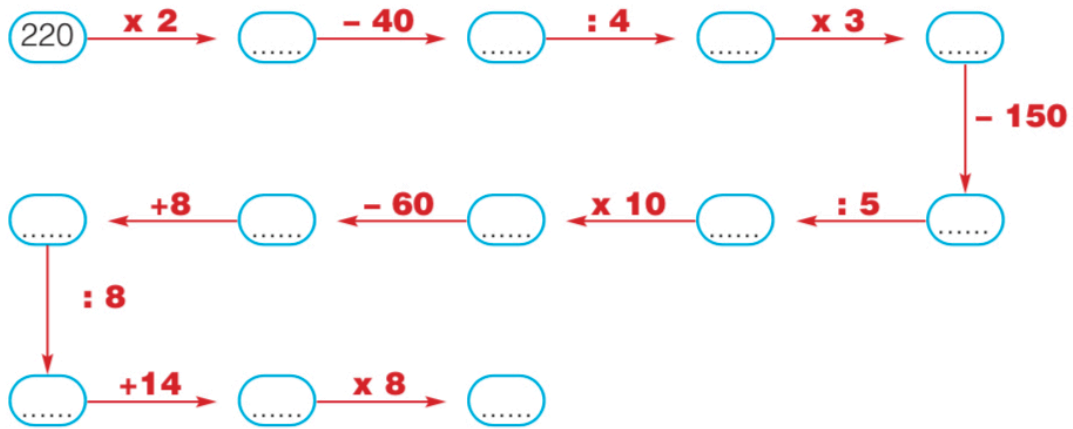
.....

3





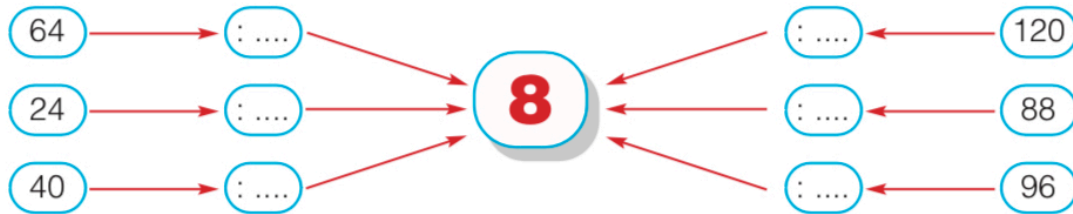
Completo la catena di numeri.



Trovo il moltiplicatore.



Trovo il divisore.



Calcolo a mente il risultato.

- 20 + 10 =
- 100 : 2 =
- 10 + 10 + 10 =
- 20 x 3 =
- 100 + 85 =
- 100 x 2 =
- 40 : 2 =
- 80 + 20 =

- 25 x 2 =
- 70 - 20 =
- 50 x 3 =
- 400 x 2 =
- 500 x 2 =
- 200 : 4 =
- 500 - 300 =
- 45 x 2 =